

Korraldaja



Koostööpartnerid



Eesti Meremuuseum
Estonian Maritime Museum



Toetajad



KULTUURIMINISTEERIUM




1+1

Kas näed **kaitsekäigult** Niguliste kiriku torni? See on oma nime saanud meremeeste ja kaupmeeste kaitsepühaku järgi.

Millistele pühakutele on pühitsetud pildidel kujutatud kirikud:


- 1 – Püha Nikolaus
 - 2 – Püha Olav
 - 3 – Püha Aleksandr Nevski
- Kirjuta kiriku alla õige number.



Mäe nõlva ja Rüütli tänava vahel asus alates 14. saj. linna tööhoov – **Marstall**: sepikojad, valukojad, müntla. Siin valmistati ka suurtükke ning kiriku ja laeva kelli. Milline oht kaasnes oma töös tuld kasutavate töökodadega? Miks toodi töökojad linnamüüri äärde?




Kuningas Valdemar II Võitja oli kõige uhkem valitseja, kes seni Eesti aladele jõudnud. Taanlaste väe laagri kuningatelk võis asuda praeguses Taani kuninga aias. Otsi üles legend Taani lipust. Joonista, kuidas Taani lipp välja näeb.



Pärast linna vallutamist on Taani lipust saanud ka Tallinna väike vapp. Palju lippe ja vappe sellise kujutisega kaitsekäigust näed?



Neitsitorni III korrusel on ka üks väike suurtükk ja tuulelipud. Leia need üles. Kuidas on kahur ja tuulelipp meresõiduga seotud? Mis aastal on tuulelipud valmistatud? Millise mereeluka kujud kaunistavad kahuritoru? Joonista või kirjuta siia:



Merevaade: 800 aastat tagasi paistis praegusest Taani kuninga aiast kenasti meri ära ja ka uhke Taani kuninga laevastik, mis 1219. aastal siin randus. Miks praegu enam siit merd ei näe? Mitmendalt torni korruselt näeb merd?



Leia üles ja joonista peegelpildis Oleviste kiriku torn, mis oli sajandeid meremeestele heaks maamärgiks.




IV korrusel ripuvad seinavaibad millel on kujutatud daami ja üksisarve. Meresõitjad töid maale ka lugusid müstilistest olenditest, sealhulgas üksisarvest. Kunagi arvati, et Taani kuninga trooni jalad on tehtud üksisarve sarvest. Hiljem selgus, et tegemist oli ühe mereloomaga sarvega. Kas see oli morsk, mõõkkala või narval?

Raidkivimuseum

Kui soovid külastada **Raidkivimuseumi**, jälgi **ajakava**: ukсед avatakse T-R kl 12.00 ja 15.00. Soovitame osalemisest ette teatada. Koguneme Kiek in de Kōki kassa ees.



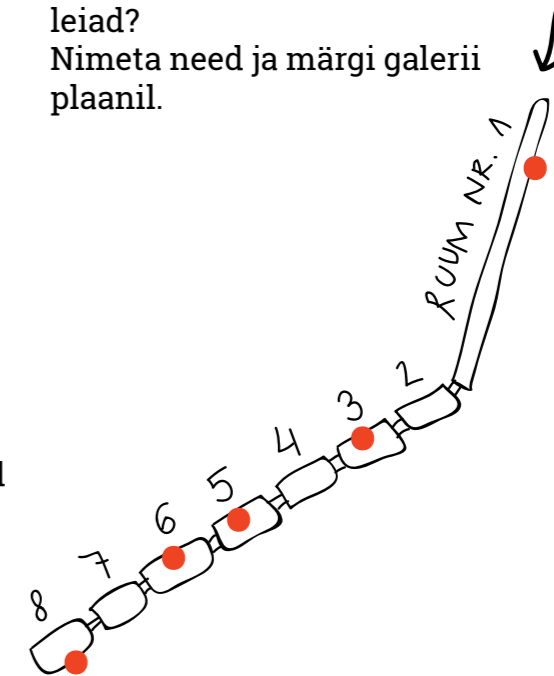
Kohalik kivi – paekivi oli väga levinud ehitus- ja raidkivide materjal. Seda veeti laevadega ka kaugele Norra, Rootsi ja Taani linnadesse. Leia selle laeva makett, millega hansakaupmehed paekive vedasid. Kuidas seda laevatuüpi nimetati?



Kas mäletad, millisest kivist on ehitatud Kiek in de Kōki ja kaitsemüür?

Need toodi Lasnamäe kivimurrust.

Jaluta läbi galerii. Kui palju merelisi motiive sa kividelt leiad? Nimeta need ja märgi galerii plaanil.



Teised mänguvälja muuseumid:

Peeter I Majamuuseum
Kalamaja lastemuuseum Miiamilla
Kalamaja raamatukogu
Tartu Mänguasjamuuseum

© Центр развития музейного дела (programmi kontseptsioon 2005)
© MTÜ Elamusõppe labor (kohandatud kontseptsioon 2015)
© Julia Voinova, Tõnu Pedaru (tekst 2016)
© Liisa Kruusmägi (illustratsioonid 2016)

Teised Kiek in de Kōki ja Bastionikäikude programmid
www.linnamuuseum.ee/kok

Laste ja noorte festival



7–10aastastele


Mänguväli „Mere lapsed“

Kiek in de Kōki ja Bastionikäigud
Neitsitorn
Raidkivimuseum
2016



avatudfestival.ee

Tere tulemast keskaegse Revali kõige võimsamasse suurtükitorni, millele linnarahvas pani nimeks **Kiek in de Kōk**. Torn ehitati rohkem kui 500 aastat tagasi kodumaisest ehitusmaterjalist - paekivist. Kui palju töölisi võttis osa ehitustöödest? Seda saab arvutada rae arveraamatutes üles tähendatud kulude kaudu.

 Leia
 Joonista või kirjuta
 Arvuta koos vanematega
 Mõtte
 Keeruline ülesanne
 

Tallinna keskaja puu- ja kiviseppade töölepingus seisis säte, et tellija pidi tööl olevatele meistritele ja sellidele andma päevapalgale lisaks 2 toopi kalja või õlut päevas. Tallinna vaat mahutas 100 toopi. Kui palju mehi oli torni juures tööl 1475. aasta ehitusperioodil (122 päeva), kui rae arveraamatute järgi toodi sel perioodil torni 519 vaati jookke?

Sind aitab kalkulaator.





Vaata torni plaanilt, mitu korrust on sellel nüüdisajal?

Mis sa arvad, millisel korrusel hoiti meie suurtükitornis püssirohtu? Püssirohi ei tohi niiskeks saada. Seda hoiti kõige kuivemas kohas. Näita noolega, mis korrusele peaks sõdur püssirohu viima.



II korrus

Praegu asub Kiek in de Kōki tornis muuseum, kuid vanasti oli see relvastatud linna kaitsmiseks vaenlase vastu. Millised tulirelvad asusid torni laskeavades? Samasuguseid suuri tulirelvi kasutati ka laevadel.



Leia korruselt kamin. Millisel erilisel eesmärgil seda kasutati?


- A) toidutegemiseks
- B) soojendamiseks
- C) tulirelvades püssirohu süütamiseks

III korruse põrandalt leiad all-linna maketi. Mitu torni oli linnamüüris? Millised neist olid kõige võimsamad? Millisest küljest piiras linna meri?

Tallinn, keskaegse nimega Reval, on alati olnud sadamalinn. Siit läks läbi hansalinnade kaubatee, mis ühendas Euroopat Venemaaga. Tänu soodsale asendile kaubateede ristumiskohas meie linn rikastus. Hansakaupmeeste laevad tõid siia mitmesugust kaupa, mida müüdi kohapealsel turul või viidi edasi teistesse riikidesse.



Milline kaup on liigne? Tõmba maha ülearused pildid:



Paljud valitsejad tahtsid Revalit vallutada. Kõige ohtlikumateks piirkondadeks olid linna merepiir ning Tõnismäe kõrgendik. Nende naabrus nõudis linnalt erilisi kaitseehitisi. Suured kaitsetornid ehitatigi just väravate juurde.

Leia maketilt Suur Rannavärv, kirjuta selle number siia: _____

Mis suurtükitorn ehitati Suure Rannavärava kaitseks mere poolt tulevate rünnakute eest? Nimi on kirjas ka torni mudeli all.



Revalis asus mitu köietegemise töökoda. Eriti palju vajati köisi laevadel ja sadamas. Milline merepooles linnaosas asunud torn sai oma nime naabruses asunud köietöokoja järgi? Joonista see siia:



IV korruselt leiad laevamudelid.




Võrdle laevu omavahel. Millisega oleks lihtsam suunda muuta?

Leia mudelilt lövi kuju. Märgi joonisel selle asukoht.



Joonista laevale purjed



Peeter I majamuuseumis on sama ajastu purjelaevamakett. Kui lähed sinna, saad kontrollida, kumb neist kolmest laevast on vanem.

Leia üles pildid 1790. a merelahingust. Kelle vahel lahing toimus? Kui palju laevu merel näed?

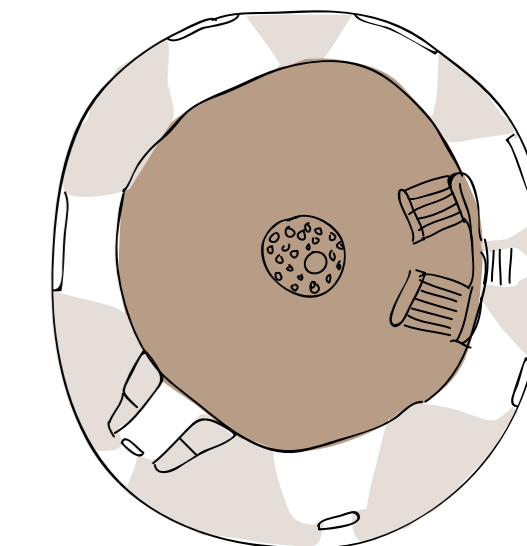
V korrusel asub relvakogu, siia on kogutud nii keskajast pärinevaid kui ka nüüdisaegseid relvi. Leia nende hulgast laevasuurtükk. Mis aastal see valati? Miks võis vaja olla laevasuurtükkidele lisakinnitust köitega?



VI korrusel asus vaateplatvorm. Keskajal, kui torn oli äsja valminud, polnud sel katust peal, nagu praegu. Tornivaht pidi vaateplatvormilt ümbrusel silma peal hoidma, et vaenlast aegsasti märgata ning linna ründamist ära hoida. Leia torni vaateplatvormi originaalkate.



Millisest suunast näed merd paistmas? Märki plaanil.



Kui sõduril oli vaja ühest tornist teise jõuda, kasutati selleks varjatud kaitsekäiku. Kui soovid minna Neitsitorni, otsi see käik üles.

Vaata torni plaani järgi.